

Estimado Estudiante de Educación Primaria:

La presente evaluación diagnóstica tiene como finalidad indagar sobre los aprendizajes que has adquirido en el grado anterior, saber qué aprendiste y qué te falta aprender. Los resultados que obtengas no representarán una calificación en tu desempeño, sino más bien serán utilizados para generar acciones de reforzamiento, que permitan apoyar tu progreso educativo.

Para lograr el propósito anterior y que este ejercicio apoye en fortalecer tus aprendizajes, es importante que tengas presente las siguientes recomendaciones:

1. Recuerda que al responder las preguntas que aparecen en esta Evaluación Diagnóstica, estarás reconociendo aquellos aprendizajes que ya dominas, así como aquellos en los que requieres estudiar un poco más.
2. Es importante que leas con atención cada uno de los reactivos o preguntas, antes de contestar cualquiera de ellas, trata de comprender perfectamente lo que se te pide.
3. Algunos reactivos o preguntas de esta evaluación, se conforman con lecturas, imágenes, situaciones o datos que acompañan al reactivo; por eso, es indispensable que antes de contestarlo leas y analices toda la información que se te proporciona.
4. Para evitar errores y que obtengas buenos resultados, ten presente los siguientes puntos:
 - En cada uno de los reactivos encontrarás CUATRO opciones de respuesta, pero sólo puedes elegir una.
 - Para cada pregunta sólo hay una opción correcta.
 - Ya que hayas identificado la opción correcta, debes señalarla como se indica.
 - Cuando hayas terminado de responder todos los reactivos de la evaluación, verifica que en todos seleccionaste una respuesta.
 - Si llegaras a identificar que algunos reactivos o preguntas son difíciles de contestar para ti, no te preocupes, esos reactivos que no te fueron fáciles de responder, coméntalos con tu maestra o maestro, para que te apoye y solucione tus dudas.

Ahora sí, lee con atención, concéntrate y responde todas las preguntas.

¡Tú puedes hacerlo muy bien!

EVALUACIÓN DIAGNÓSTICA TERCER GRADO DE PRIMARIA
DIAGNÓSTICO SEMANA 1

ESPAÑOL

1. Elige la imagen que corresponda a un tema que expresa un problema social.



A La contaminación



B La naturaleza y la ciudad






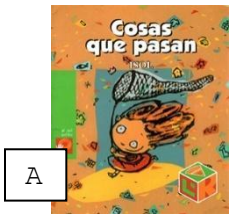
C Los estados del agua



D Los cultivos de maíz

2. Enrique un niño de segundo año, eligió exponer el tema de los animales domésticos porque quiere tener una mascota.

¿En qué material puede encontrar información sobre el tema que le interesa?




Lee el siguiente texto y resuelve.

El perro y su reflejo

Un perro muy hambriento caminaba de aquí para allá buscando algo para comer, hasta que un carnicero le tiró un hueso. Llevando el hueso en el hocico, tuvo que cruzar un río. Al mirar su reflejo en el agua creyó ver a otro perro con un hueso más grande que el suyo, así que intentó arrebatárselo de un solo mordisco. Pero cuando abrió el hocico, el hueso que llevaba cayó al río y se lo llevó la corriente. Muy triste quedó aquel perro al darse cuenta de que había soltado algo que era real por perseguir lo que solo era un reflejo.

Moraleja: Valora lo que tienes y no lo pierdas por envidiar a los demás.



3. Identifica que tipo de texto es la lectura anterior

- A) Fábula.
- B) Leyenda.
- C) Cuento.
- D) Verso.

4. Observa las siguientes imágenes y el orden según el cuento.



- A) 2, 1, 3
- B) 3, 2, 1
- C) 1, 2, 3
- D) 2, 3, 1

5. De las siguientes imágenes elige la que tenga canciones y poemas juntas.



Lee el siguiente texto para responder a la pregunta número 6.

Caballito blanco
Caballito_____,
sácame de aquí,
llévame a mi pueblo,
donde yo n____.
—Tengo, tengo, tengo.
—Tú no tienes nada.
—Tengo tres borregas
en una manada;
una me da le____,
otra me da lana,
y otra mantequilla
para la s____a.



Ronda infantil tradicional

6. Revisa el texto anterior y selecciona el orden correcto de las palabras que faltan.

- A) Leche, nació, semana, blanco.
- B) Blanco, nació, semana, leche.
- C) Blanco, nació, leche, semana.
- D) Leche, semana, nació, blanco.

7. De las siguientes palabras elige los nombres que están escritos correctamente.

- A) marriana, oscar, armando.
- B) mariana, oscar, armando.
- C) Mariana, Oscar, Armando.
- D) mariana, osqar, arrmando.

Lee el siguiente texto:

COMO HACER UNA ALCANCÍA DE COCHINITO

Materiales:

- 1 botella de plástico.
- 4 tapitas.
- Pegamento líquido.
- Tijeras.
- Cartón.
- Tempera, lentejuelas, botones o elementos para decorar.

Procedimiento:

1. Dibuja sobre el cartón las orejas de tu cochinito y luego recórtalas con mucho cuidado.
2. Coloca la botella de forma horizontal y pega sobre ella las orejas y las 4 tapitas como si fueran las patas del cerdito.
3. Pinta tu cochinito y decóralo como más te guste.
4. Pide a un adulto que haga el agujerito en la parte superior del cerdito para que puedas meter tus monedas.



- A) Cuento.
- B) Instructivo.
- C) Leyenda.
- D) Fábula.

Observa los siguientes anuncios y contesta las preguntas 9 y 10.



9. Selecciona lo que dan a conocer los anuncios anteriores

- A) Canciones y juegos.
- B) Viajes y salidas.
- C) Fiestas y regalos.
- D) Servicios y productos.

10. ¿Cuál anuncio ofrece un servicio a la comunidad sin obtener ganancias económicas?


- A) 4
- B) 3
- C) 2
- D) 1

**EVALUACIÓN TERCER GRADO DE PRIMARIA
DIAGNÓSTICA 1ª SEMANA**

MATEMÁTICAS

11. Luis compró la siguiente cantidad de hojas, ¿cuántas hojas compró en total?

Paquetes de 100 hojas



Hojas sueltas



- A) 5003 hojas.
- B) 503 hojas.
- C) 350 hojas.
- D) 305 hojas.

12. ¿Cómo se escribe el número quinientos dos?

- A) 520
- B) 52
- C) 5002
- D) 502

13. Ordena los siguientes números de mayor a menor: 1903, 9130, 1390, 9103

A) 1903, 9130, 1390, 9103

B) 1903, 1390, 9103, 9130

C) 9130, 9103, 1903, 1390

D) 9103, 1390, 9130, 1903

14. Andrés compró un libro de \$38 y pagó con un billete de \$50, ¿cuánto deberá recibir de cambio?

A) \$12

B) \$88

C) \$28

D) \$538

15. Francisco tiene 454 estampas y Jorge tiene 656, ¿cuántas estampas le faltan a Francisco para tener las mismas que Jorge?

A) 1100 estampas.

B) 202 estampas.

C) 505 estampas.

D) 308 estampas.

16. Manuel compró una playera que costó \$123 y pagó con un billete de \$200, ¿cuánto cambio debe recibir?

A) \$7

B) \$77

C) \$323

D) \$123

17. ¿Cuál es el resultado de restar $408-320$?

- A) 128
- B) 728
- C) 88
- D) 112

18. Diego tiene 35 estampas coleccionables y su amigo Luis le regaló 26, ¿cuántas estampas tiene ahora Diego?

- A) 51 estampas.
- B) 611 estampas.
- C) 61 estampas.
- D) 9 estampas.

19. Verónica compró una lapicera de \$306 y una goma de conejo de \$18, ¿cuál de las siguientes operaciones debe realizar para saber cuánto debe pagar?

- A) $306 - 18$
- B) $306 + 18$
- C) $18 - 306$
- D) $316 + 18$

20. El resultado de la suma $657 + 289$ es ____.

- A) 946
- B) 936
- C) 836
- D) 846

EVALUACIÓN TERCER GRADO DE PRIMARIA
Examen diagnóstico 1er semana

CIENCIAS NATURALES

21. Subraya la opción que representa materiales en estado sólido, líquido y gaseoso.

- A) Lluvia, agua y jugo.
- B) Agua, hielo, globo.
- C) Refresco, piedra, lápiz.
- D) Té, nube, globo.

22. Observa las siguientes imágenes y señala la opción donde se está ayudando a cuidar el ambiente.



A)



C)




B)



D)

23. Observa las siguientes ilustraciones y ubica en qué número está señalado el otoño.



- A) 4
- B) 3
- C) 2
- D) 1

24. Selecciona el listado que muestra la clasificación de animales por la forma en que se desplazan:

<p>A)</p> <ol style="list-style-type: none"> 1. Caminan 2. Reptan 3. Vuelan 4. Nadan 	<p>B)</p> <ol style="list-style-type: none"> 1. Acuático 2. Reptan 3. Nadan 4. Trepan 	<p>C)</p> <ol style="list-style-type: none"> 1. Caminan 2. Acuático 3. Vuelan 4. Nadan 	<p>D)</p> <ol style="list-style-type: none"> 1. Nadan 2. Terrestre 3. Vuelan 4. Caminan
--	---	--	---

25. Las siguientes acciones ayudan a cuidar tu salud, EXCEPTO:

- A) Alimentarte sanamente.
- B) Beber agua simple potable.
- C) Bañarse diariamente.
- D) Comprar y tomar diferentes vitaminas todo el año.

26. Karla y Laura estaban jugando avioncito, pero ambas tiraban y brincaban al mismo tiempo por lo que terminaron chocando, ¿cómo se pudo haber evitado esta situación?

- A) Pidiéndole a un adulto que las vigilara.
- B) Conociendo y respetando las reglas del juego.
- C) Preguntando las reglas del juego.
- D) Que conocieran las reglas del juego.

27. Identifica la opción en la que uno de los niños menciona una costumbre que tiene con su familia.



- A) Salir en algunas ocasiones a comprar ropa.



- B) Caminar por la noche sin la compañía de nadie.



- C) Escribir el nombre de mis mejores amigos.



- D) Visitar todos los domingos a mis abuelitos y comer en familia.

28. ¿Cuál de las siguientes oraciones define mejor lo que es un croquis?

- A) Modelo que representa a una esfera a escala de la tierra.
- B) Un dibujo sencillo en el que se representan lugares pequeños (casas, colonias).
- C) El retrato de una persona realizado con pinturas diversas.
- D) Arte y técnica de representar objetos o crear figuras en tres dimensiones labrando un material, como barro, piedra, madera o bronce.

29. De las siguientes imágenes, selecciona cuál de los niños no está siguiendo las reglas de sana convivencia.



A)



C)



B)



D)

30. ¿Cuál de las siguientes acciones pueden dañar la salud de los sentidos del gusto y tacto?

- A) Lavarse las manos, visitar al dentista.
- B) Mantener mis oídos limpios.
- C) Comer mucha sal, no lavarte las manos.
- D) Evitar consumir alimentos salados y picantes, evitar tocar sustancias peligrosas.

ANEXO "IMÁGENES CIENCIAS NATURALES"

IMAGEN 1. REACTIVO 2

- Limpieza de contaminación del suelo. Niños limpiando el parque. Extraído de https://www.freepik.es/vector-gratis/grupo-ninos-recogiendo-basura_4978318.htm
- Consecuencias de la contaminación del agua, una problemática mundial. Contaminación de mares. Extraído de: <http://www.latarde.com/consecuencias-de-la-contaminacion-del-agua-una-problematica-mundial/>
- Contaminación del aire. Hombre fumando. Extraído de: https://es.123rf.com/photo_22210988_ilustraci%C3%B3n-de-un-hombre-de-negocios-de-fumar-sobre-un-fondo-blanco.html
- Contaminación del sueño. Hombre tirando basura en la calle. Extraído de: https://es.123rf.com/photo_67200761_tirar-basura-muchacho-adolescente-bully-demostrando-da%C3%B1osa-incontrolable-ilustraci%C3%B3n-de-dibujos-animados-u.html

IMAGEN 2. REACTIVO 3

- Mayen D. y León I. (2019), 4 estaciones del año (ilustración). Recuperado de: Secretaría de Educación Pública. (2019), Conocimiento del Medio Segundo Grado. CDMX, México, pág. 148.

IMAGEN 3-6. REACTIVO 7

- Happy boy cartoon vector image. Niño animado. Extraído de: <https://www.vectorstock.com/royalty-free-vector/happy-boy-cartoon-vector-21558551>
- Dibujo animado. Niño animado. Extraído de: https://www.freepik.es/vector-premium/ilustracion-vector-nino-lindo-dibujos-animados-agitando_2531491.htm
- Niña con gran sonrisa. (2019). Niña animada. Extraído de: https://www.freepik.es/vector-gratis/nina-feliz-gran-sonrisa-falda-azul_6952735.htm#page=1&query=nina%20dibujos%20animados&position=38
- Niña animada con gafas. Niña animada. Recuperado de: https://www.pinterest.com.mx/pin/699746860823855025/?nic_v1=1a6ZgWnZSYbhDGA7mDJDVzpTi2NhC4uVr2b0SnRiWhkA7qtyx2ZBlpLBeaPQlqEbJ3

IMAGEN 7-10. REACTIVO 9

- Niños jugando con canicas. Niño jugando canicas. Extraído de: <https://www.shutterstock.com/es/image-vector/vector-illustration-little-boy-playing-marbles-309386522>

- Niño de dibujos animados jugando fútbol. Niño animado jugando. Extraído de: <https://mx.depositphotos.com/53334841/stock-illustration-cartoon-boy-playing-football.html>
- Niños jugando a las escondidas. Niño jugando a esconderse. Extraído de: https://es.pngtree.com/freepng/the-children-playing-hide-and-peek_3421964.html
- Niño de dibujos animados empujando a otro niño. Niños peleando. Extraído de: https://es.123rf.com/photo_59922355_ni%C3%B1o-de-dibujos-animados-empujando-a-otro-ni%C3%B1o-clip-de-arte-de-la-ilustraci%C3%B3n-con-gradientes-simples-cada-uno.html

DATOS DE QUIEN ELABORÓ

ESPAÑOL

Elsa Domínguez Ventura.

MATEMÁTICAS

Herminia Camacho Barrera.

Wendoline María de los Ángeles Zuvire Montalvo.

CIENCIAS NATURALES

Violeta Mariana Ramos Hernández.

Karla Cecilia Alvarado Sánchez.

NIVEL: Educación básica primaria

Fecha de elaboración: 01 al 07 de julio de 2020.